



Fundação Educacional Claudino Francio

Centro de Educação Básica São José

Sorriso _____ / _____ / _____

REVISÃO DE GEOGRAFIA CAPÍTULO 1.

- **MEU LUGAR NO MUNDO, PONTO DE VISTA, AMPLIAR E REDUZIR, PONTO DE REFERÊNCIA E LOCALIZAÇÃO, P. 143 ATÉ 167.**

1) A MENINA ESTÁ OLHANDO PARA UMA CARTEIRA. **DESENHE** QUAL É A IMAGEM QUE ELA VÊ A PARTIR DE DIFERENTES PONTOS DE VISTA.



OBSERVAR A CARTEIRA DE FRENTE.



CARTEIRA EM VISÃO FRONTAL.



OBSERVAR A CARTEIRA DE LADO.



CARTEIRA EM VISÃO LATERAL.

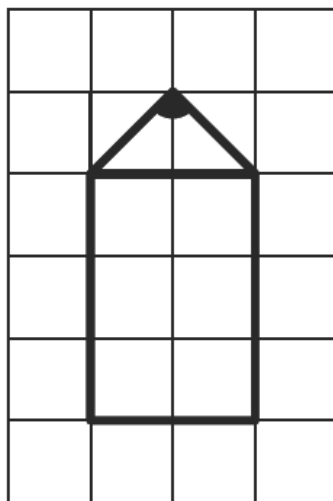


OBSERVAR A CARTEIRA DE CIMA PARA BAIXO.

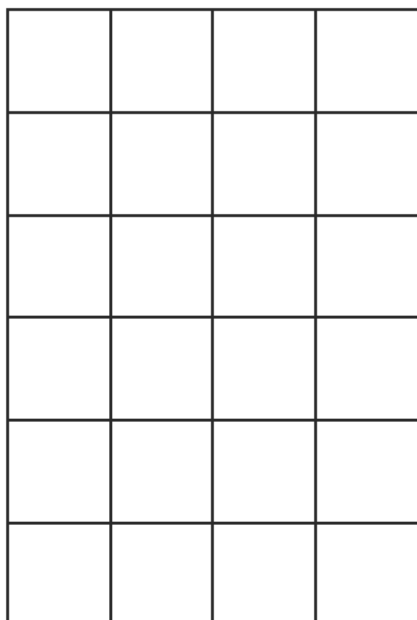


CARTEIRA EM VISÃO VERTICAL.

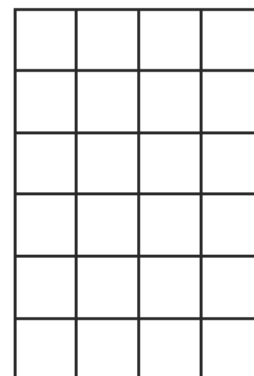
2) **OBSERVE** O LÁPIS DESENHADO NO QUADRICULADO ABAIXO. DEPOIS, **DESENHE** NOS QUADRICULADOS 1 E 2 O **MESMO LÁPIS** USANDO A **MESMA QUANTIDADE DE QUADRINHOS**.



1



2



- AGORA, **ESCREVA** A DIFERENÇA ENTRE OS TRÊS DESENHOS.

3) **MARQUE COM UM (X)** PARA INDICAR SE AS IMAGENS ESTÃO NO TAMANHO REAL, AMPLIADO OU REDUZIDO.



O tamanho da borracha:

foi ampliado.

foi reduzido.

é real.



O tamanho do rinoceronte:

foi ampliado.

foi reduzido.

é real.



O tamanho do pemilongo:


foi ampliado.

foi reduzido.


é real.

4) ANINHA MORA PERTO DA PRAÇA, SUA CASA FICA AO LADO DO SHOPPING, EM FRENTE A CASA DO DANIEL.

- **CIRCULE** NA IMAGEM A CASA DELA.



- **DESENHE** SUA CASA E UM PONTO DE REFERÊNCIA PRÓXIMO A ELA.



5) **OBSERVE** A PLANTA BAIXA DE UMA SALA DE AULA.



• AGORA, **RESPONDA**.

A) QUEM ESTÁ SENTADO NA FRENTE DE MARCIO? _____.

B) QUEM ESTÁ SENTADO ATRÁS DE ANALU? _____.

C) QUEM ESTÁ SENTADO NA FRENTE DA MESA DA PROFESSORA ROBERTA?
_____.

D) AO LADO DIREITO DE ROSANGELA QUEM ESTÁ SENTADO? _____.

E) AO LADO ESQUERDO DE ROSANGELA QUEM ESTÁ SENTADO? _____.

F) QUEM SENTA ENTRE MIKAEL E SARA? _____.