


1) HORA DE RESOLVER PROBLEMAS:


a) Diogo e Helena foram ao cinema e compraram um pacote de pipoca que custou R\$16reais. Na hora de pagar, resolveram dividir a conta.

Quanto cada um pagou?



b) Rebeca foi a papelaria e comprou uma tesoura que custou R\$ 8reais, uma borracha que custou R\$ 4reais e uma caneta que custou R\$ 3 reais. Quanto

Rebeca gastou?



c) Dona Marlene faz bolinhos para vender. Ela cobra R\$ 4 reais por unidade.

Hoje ela vendeu 8 bolinhos.

Quanto recebeu na venda de bolinhos de hoje?

Ontem ela vendeu o dobro, quanto recebeu ontem?



d) Miguel pescou 27 peixes e deu 18 para sua vovó.

Com quantos peixes ele ficou?



2) Observe e responda:



Paulo  
17kg



Ciro  
15kg



Luísa  
12kg



Marco  
14kg



José  
16kg

a) Quem pesa mais?

b) Quem é mais leve?

c) Quantos quilos Paulo tem a mais que Luísa?

d) Quanto pesam Marcos e José juntos?

e) Quantos quilos Luísa tem a menos que Ciro?


3) Para poder guardar suas economias em um cofrinho, Isadora quer trocar as suas notas de real por moedas.

Ligue as notas de Isadora na combinação correta de moedas.



2) Qual a quantia em real que Isadora tem?

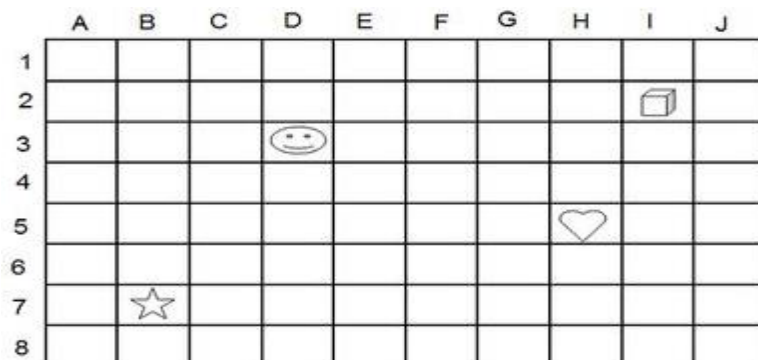
4) O piso de uma sala está sendo coberto por cerâmica quadrada. Já foram colocadas 7 cerâmicas como mostra a figura:



Quantas cerâmicas faltam para cobrir o piso?

- (a) 6                      (b) 7                      (c) 8                      (d) 15

5) Observe a malha quadriculada e localize as imagens através dos números e letras escrevendo as coordenadas:



Coração (\_\_\_\_,\_\_\_\_)    Cubo (\_\_\_\_,\_\_\_\_)    Estrela (\_\_\_\_,\_\_\_\_)    Carinha (\_\_\_\_,\_\_\_\_)

6) Complete a sequência numérica:

<b>2</b>	<b>4</b>			
		<b>16</b>		
				<b>50</b>

7) Complete a sequência numérica:

<b>52</b>	<b>54</b>			
			<b>78</b>	
				<b>100</b>

