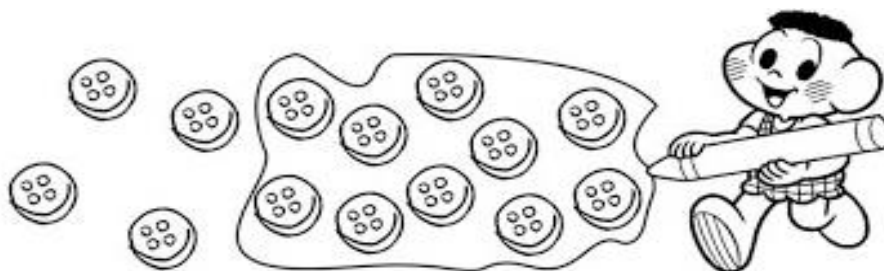


ALUNO(A): \_\_\_\_\_ Data \_\_\_/\_\_\_/2020

1) Observe a forma como agrupou os botões e responda.



- a) O agrupamento de Cascão possui \_\_\_\_\_ botões.  
 b) Quantos botões ficaram fora do agrupamento de Cascão? \_\_\_\_\_

2) Forme grupos de 10 botões.



a) Quantos grupos de 10 botões você formou? \_\_\_\_\_

b) De acordo com o agrupamento acima responda:

10 Grupos de 10	Grupos de 10	Resto


3) Pedro ganhou adesivos de estrelinhas. Elas vieram agrupadas de 3 em 3 em uma folha e 3 folhas formavam um envelope. Com a imagem abaixo agrupe as estrelas.



a) De acordo com o agrupamento acima responda:

3 Grupos de 3	Grupos de 3	Resto

4) Carla comprou botões de carinhas para aulas de artesanato. Os botões vieram agrupados de 2 em 2 e cada 2 cartelas formavam um saquinho. Com a imagem abaixo agrupe os botões.



a) De acordo com o agrupamento acima responda:

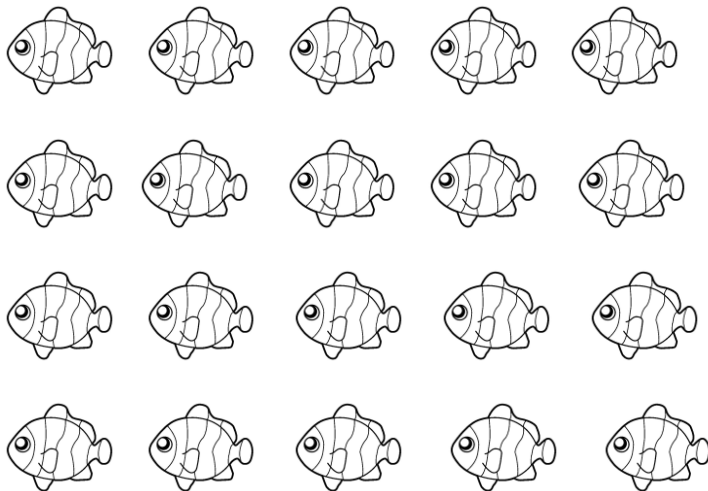
2 Grupos de 2	Grupos de 2	Resto

5) Agrupar os peixinhos de acordo com o que se pede:

4 peixinhos: um saquinho pequeno

4 saquinhos pequenos: 1 saco grande

4 sacos grande: 1 aquário



a) De acordo com o agrupamento acima responda:

4 Grupos de 4	Grupos de 4	Resto

6) Ana Sofia comprou ovos para fazer um delicioso pudim.

a) Quantos ovos ela comprou?

Resposta: \_\_\_\_\_



b) Preencha nos espaços o que se pede.




MEIA DÚZIA

1 DÚZIA

2 DÚZIAS

1 DÚZIA E MEIA

7) Pinte na malha de quadriculados à seguir vários retângulos diferentes que representem no total de 20 quadradinhos. Utilize cores diferentes para cada retângulo que você formar.



8). Vamos lembrar da história de Alice no país das maravilhas? Ela percorreu vários quilômetros durante seu percurso.

Agora é com você! Responda esse desafio.

A) UM QUILOMETRO TEM \_\_\_\_\_ METROS.

B) A METADE DE UM QUILOMETRO TEM \_\_\_\_\_ METROS.

C) A METADE DA METADE DE UM QUILOMETRO TEM \_\_\_\_\_ METROS.

Espaço para cálculo:

9) Os alunos do 3º ano foram a uma banca de jornal.

Vários brindes, descontos e sorteios foram anunciados. Observe um dos anúncios:

**Nas compras acima de 50 reais ganhe um gibi.**

João comprou 2 revistas no valor de 11 reais cada uma, um álbum de figurinhas por 12 reais, e também 4 gibis por 4 reais cada um.

a) Quanto João gastou em sua compra?

b) Ele conseguiu ganhar um brinde?

**SIM**

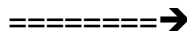
**NÃO**

Explique sua resposta.

10) Quando João e Matheus foram para o caixa. João tinha uma cédula de 100 reais.



O tio do caixa precisou ir na loja de brinquedos ao lado da banca de jornal, para fornecer o troco ao João.



a) Será que o tio do caixa vai conseguir fornecer o troco para João? \_\_\_\_\_.

b) Qual será o valor do troco para João? \_\_\_\_\_

Espaço para cálculo>

11) Na banca de jornal também tinha vários brinquedos para comprar. Resolva:

 URSO  
Valor: R\$ 12,00  
Pagou   
Troco: \_\_\_\_\_

\_\_\_\_\_  
 Valor: R\$ 7,00  
Pagou   
Troco: \_\_\_\_\_

\_\_\_\_\_  
 Valor: R\$ 4,00  
Pagou   
Troco: \_\_\_\_\_

\_\_\_\_\_  
 Valor: R\$ 23,00  
Pagou   
Troco: \_\_\_\_\_

\_\_\_\_\_  
 Valor: R\$ 17,00  
Pagou   
Troco: \_\_\_\_\_

\_\_\_\_\_  
 Valor: R\$ 3,00  
Pagou   
Troco: \_\_\_\_\_

\_\_\_\_\_  
 Valor: R\$ 38,00  
Pagou   
Troco: \_\_\_\_\_

\_\_\_\_\_  
 Valor: R\$ 14,00  
Pagou   
Troco: \_\_\_\_\_

ESPAÇO PARA CALCULAR: