



Fundação Educacional Claudino Francio
Centro de Educação Básica São José

Sorriso _____ / _____ / _____

REVISÃO DE CIÊNCIAS CAPÍTULO 1.

- **A TERRA E SEUS RECURSOS NATURAIS, P. 83 ATÉ 121.**

1) DURANTE AS AULAS DE CIÊNCIAS, APRENDEMOS QUE EM NOSSO PLANETA HÁ DIVERSOS **RECURSOS NATURAIS** QUE TRAZEM BENEFÍCIOS PARA NOSSAS NECESSIDADES BÁSICAS.

- **ORGANIZE** AS LETRAS E **ESCREVA** O NOME DE QUATRO DELES.

RA


U Á A G



OLSO

LSO

- 2) **OBSERVE** A CENA DESSE AMBIENTE.



- NOS QUADRINHOS A SEGUIR, **MARQUE UM X** EM TODOS OS ELEMENTOS QUE EXISTEM NO AMBIENTE APRESENTADO NA PÁGINA ANTERIOR:

ANIMAIS

ÔNIBUS

CASA

SOL

TRATOR

RIO

RUA

PLANTAS

- AGORA, **ESCREVA**, NA TABELA ABAIXO, O NOME DE **DOIS SERES VIVOS** E DE **DOIS ELEMENTOS NÃO VIVOS** QUE APARECEM NA IMAGEM.


Seres vivos	Elementos não vivos

- 3) NAS IMAGENS ABAIXO PODEMOS VER O **CICLO DE VIDA DE UM SER VIVO**. **NUMERE** AS CENAS DE ACORDO COM A **SEQUÊNCIA CORRETA DOS FATOS**.









4) AS **PLANTAS E ANIMAIS** PODEM VIVER EM **DIFERENTES HABITATS**.

- SABENDO DISSO, **DESENHE** UM EXEMPLO DE ANIMAL E PLANTA PARA CADA HABITAT INDICADO NOS QUADROS ABAIXO.

AQUÁTICO	ANIMAL	PLANTA
TERRESTRE	ANIMAL	PLANTA

5) **DESEMBARALHE AS SÍLABAS** E DESCUBRA O NOME DE UMA PLANTA QUE VIVE EM **HABITAT AÉREO**.

QUÍ	DE	OR	A
-----	----	----	---

6) **LEIA** OS NOMES DOS ANIMAIS.

CAVALO	TIGRE	GIRAFÁ
PORCO	GALINHA	JACARÉ

- AGORA **AGRUPE-OS**, DE ACORDO COM AS INDICAÇÕES FEITAS NOS QUADROS A SEGUIR.




CARNÍVOROS	HERBÍVOROS	ONÍVOROS
SÃO OS ANIMAIS QUE SE ALIMENTAM DE CARNE DE OUTROS ANIMAIS.	SÃO OS ANIMAIS QUE SE ALIMENTAM DE VEGETAIS, PLANTAS.	SÃO OS ANIMAIS QUE SE ALIMENTAM DE CARNE E DE VEGETAIS, COMEM DE TUDO.

7) **PINTE** DE ACORDO COM A LEGENDA:

ANIMAIS OVÍPAROS (NASCEM DE UM OVO)- **AMARELO**



ANIMAIS VIVÍPAROS (NASCEM DA BARRIGA DE SUA MÃE)- **VERMELHO**



- 8) **DESENHE** UMA PLANTA COMPLETA. **FAÇA SETAS** EM CADA UMA DAS PARTES E **NOMEIE-AS**.



- 9) **NUMERE** A SEGUNDA COLUNA DE ACORDO COM A PRIMEIRA INDICANDO AS FUNÇÕES DE CADA PARTE DAS PLANTAS.

- ① RAIZ
- ② CAULE
- ③ FOLHAS
- ④ FLORES
- ⑤ FRUTOS
- ⑥ SEMENTES



- POR MEIO DELAS AS PLANTAS RESPIRAM
- DÃO ORIGEM A NOVAS PLANTAS
- FIXA A PLANTA NO SOLO
- SUSTENTA OS GALHOS, AS FLORES E OS FRUTOS
- REPRODUÇÃO
- PROTEGEM AS SEMENTES

