



Fundação Educacional Claudino Francio  
Centro de Educação Básica São José


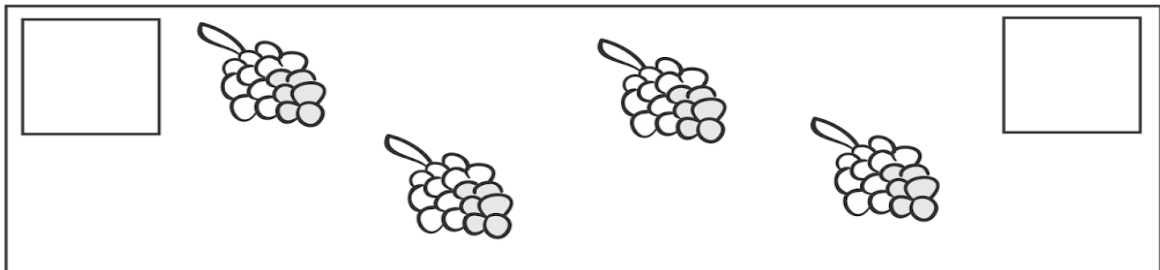
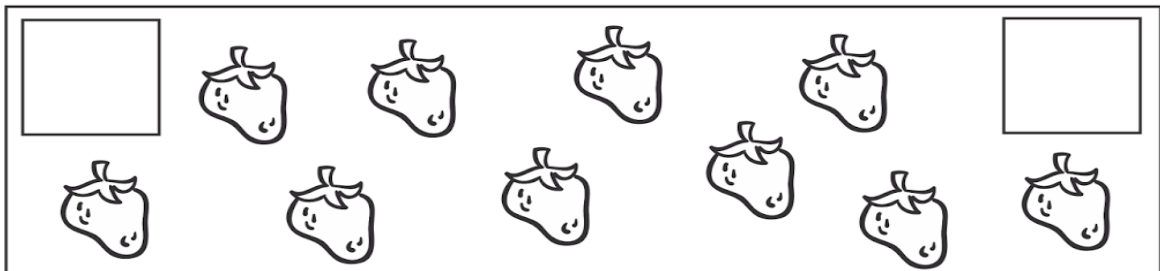
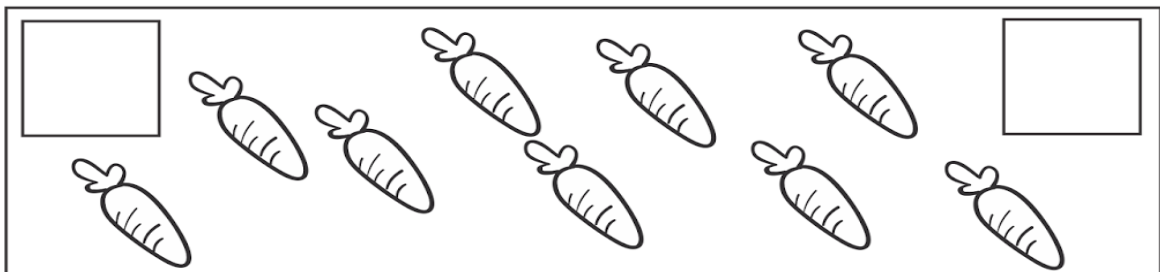
Sorriso \_\_\_\_/\_\_\_\_/\_\_\_\_

**METADE**



1) **CONTE** A QUANTIDADE DE FIGURAS E **REGISTRE O NÚMERO** NO 1º QUADRINHO.

2) AGORA, **PINTE A METADE** DESSA QUANTIDADE E **REGISTRE O NÚMERO** NO 2º QUADRINO.





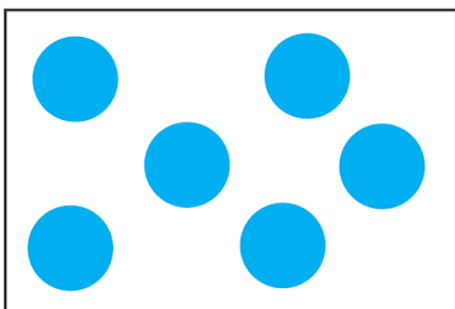

Fundação Educacional Claudino Francio  
Centro de Educação Básica São José

Sorriso \_\_\_\_/\_\_\_\_/\_\_\_\_

**DOBRO**



- 1) **CONTE** AS BOLINHAS E **DESENHE O DOBRO**, DA QUANTIDADE ENCONTRADA, NO QUADRO AO LADO.



2. Ligue corretamente:

O dobro de 9 é

32

O dobro de 7 é

18

O dobro de 12 é

14

O dobro de 16 é

24