

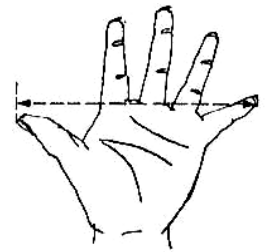


Fundação Educacional Claudino Francio
Centro de Educação Básica São José

Sorriso _____/_____/_____

1) MEÇA UTILIZANDO SEU **PALMO**.

PALMO É UMA MEDIDA DE COMPRIMENTO QUE SE OBTÉM COM A MÃO TODA ABERTA, MEDINDO DO DEDO POLEGAR AO MÍNIMO, CUJA DISTÂNCIA GIRA EM TORNO DE 22 CENTÍMETROS.

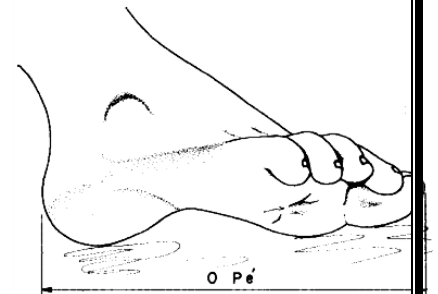


a) ALTURA DA SUA CADEIRA: _____

b) LARGURA DA SUA MESA: _____

2) MEÇA UTILIZANDO SEU **PÉ**.

PÉ É UMA UNIDADE DE MEDIDA DE COMPRIMENTO. UM PÉ CORRESPONDE A DOZE POLEGADAS, E TRÊS PÉS SÃO UMA JARDA. ESSE SISTEMA DE MEDIDA É UTILIZADO ATUALMENTE NO REINO UNIDO,




a) LARGURA DA FRENTE DO QUADRO: _____

b) DISTÂNCIA DA PORTA ATÉ A JANELA DA SALA: _____

3) MEÇA UTILIZANDO SEUS **PASSOS**.

PASSO ERA UMA UNIDADE DE MEDIDA DE COMPRIMENTO USADA NO [IMPÉRIO ROMANO](#). ERA EQUIVALENTE A 5 [PÉS](#), OU DE ACORDO COM O ATUAL [SISTEMA INTERNACIONAL DE UNIDADES](#), A 0,82 [METROS](#).

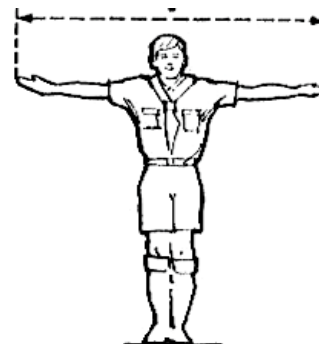


a) COMPRIMENTO DO CORREDOR: _____

b) COMPRIMENTO DO GRAMADO: _____

4) MEÇA UTILIZANDO SUA **BRAÇA**.

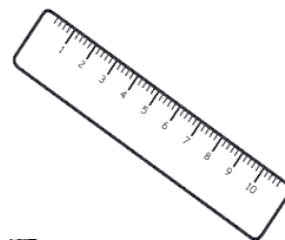
BRAÇA É A MEDIDA QUE CORRESPONDENTE AO COMPRIMENTO DE DOIS BRAÇOS ABERTOS (2,2 M).



a) A LARGURA DO PORTÃO DE ENTRADA: _____

b) A LARGURA DA PAREDE DO FUNDO DA SALA: _____

5) MEÇA UTILIZANDO A **RÉGUA**:



a) O TAMANHO DO SEU LÁPIS DE ESCREVER: _____

b) O TAMANHO DO SEU APONTADOR: _____